


Ενότητα 2: οι αριθμοί 1-5

Όνομα:..... Τάξη:.....



Γράψε τους αριθμούς που λείπουν



Ένωσε τις τελείες

5.

4.

3.

1.

2.



Σχεδιάσε 2 λουλούδια.

Σχεδιάσε 3 λουλούδια.

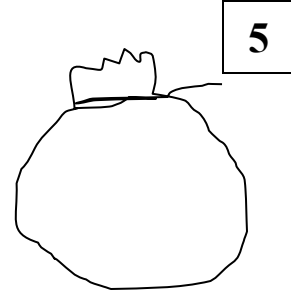
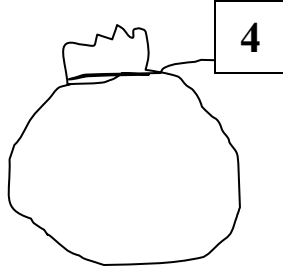
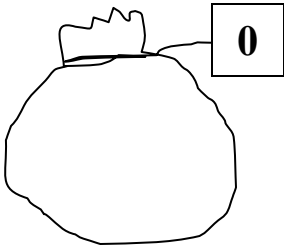


Όλα τα βάζα είναι:

Όλα τα λουλούδια είναι:






Φτιάξε σύνολα για τα 0, 4 και 5





Συμπλήρωσε ώστε να γίνουν 5.



Γράψε πόσα μήλα έχει η κάθε μηλιά



Χρωμάτισε μόνο τόσα μήλα όσα λέει ο αριθμός



Χρωμάτισε την μπάλα που γράφει το μεγαλύτερο αριθμό.

