

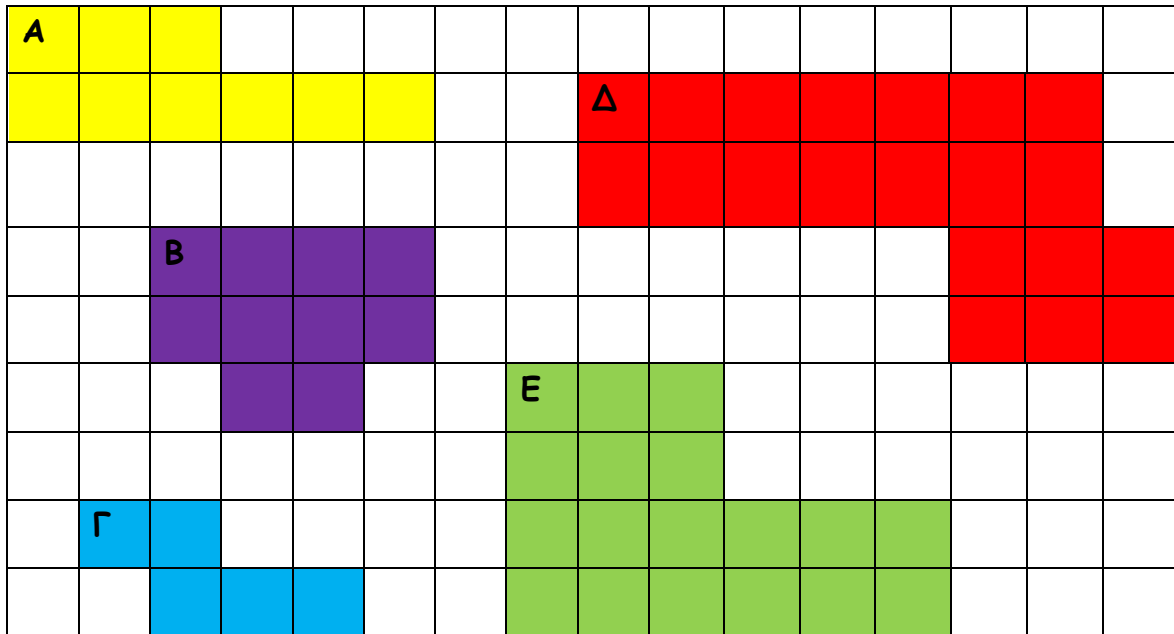
Μαθηματικά Γ' - Ενότητα 5
Περίμετρος - Εμβαδό



Όνομα:

Άσκηση 1 :

Βρίσκω το εμβαδό των πιο κάτω σχημάτων και το γράφω με ολοκληρωμένη απάντηση.



Το εμβαδό του σχήματος Α είναι

Το


Το

Το

Το

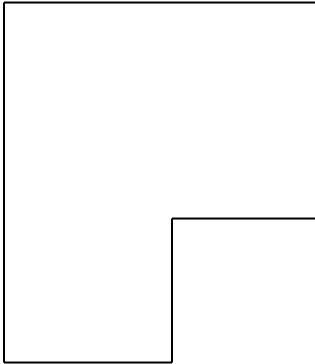
Άσκηση 2:

Φτιάχνω 3 διαφορετικά σχήματα που να έχουν εμβαδό 12 τετραγωνικά εκατοστόμετρα.

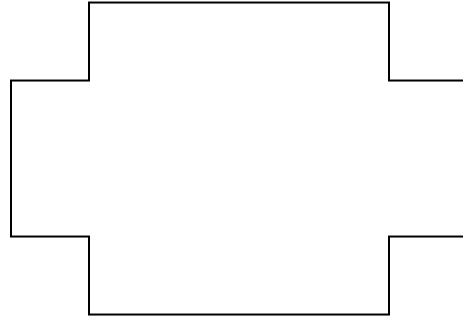


Άσκηση 3:

Μετρώ με τη ρίγα μου το μήκος των πλευρών στα πιο κάτω σχήματα και βρίσκω την περίμετρο.



Περίμετρος:



Περίμετρος: